

PLAN DE APOYO

El trabajo debe estar bien presentado, limpio, ordenado y debe ser sustentado en la fecha estipulada. Desarrolla cada una de las actividades propuestas.

Estudia y repasa para la sustentación. Organización y presentación del taller escrito (10%)


Puntualidad para la entrega y desarrollo de las actividades. (10%)

Sustentación oral y escrita (80%).

Lee con mucha atención cada enunciado y soluciona muy bien, utilizando los procesos correctos.

1. Observa, lee y contesta cada una de las preguntas enunciadas:

¿Cuál es la función de la autoridad de la imagen? Escríbela en el recuadro.



Función

1. ¿Qué valores consideras que puede haber entre los miembros de una familia?

Busca en la sopa de letras, cuatro palabras relacionadas con el tema de las normas. Enciérralas, cópialas abajo y explíquelas.

S	R	A	P	D	S	I
D	E	R	R	C	H	O
A	S	I	A	U	L	L
I	P	O	J	N	L	M
D	E	B	E	R	C	I
R	T	B	E	U	O	A
N	O	R	M	A	E	T

Explicación:

2. Piensa y responde




Explica cómo debe ser la convivencia entre éstas personas que son diferentes.

3. Lee y contesta

Observa la imagen y escribe si es campo o ciudad y dos de sus características.



	Institución Educativa Horacio Muñoz Suescún Resolución de aprobación 16314 del 27 de noviembre de 2002 Modificada parcialmente por la resolución número 202050071667 de 23 de noviembre de 2020	GAC:10 V:01 18/06/2013
	Plan de Apoyo Anual Sociales	

4. Escoge la respuesta correcta

La comunidad de Miguel es rural, pero cuenta con algunos servicios públicos, ¿cuáles son?

- (A) Agua potable y luz eléctrica.

(B) Hospital, drenaje y transporte público.

(C) Alumbrado público y centros comerciales.

(D) Pavimento en las calles y recolección de basura.

5. Une con una línea las frases hacia las imágenes correspondientes:



- Viven pocas personas.

• Circulan pocos coches.


• Las calles son cortas y estrechas.

• Circulan muchos coches.

• Viven muchas personas.

• Las calles son largas y anchas.

6. Escribe debajo de cada dibujo si se trata del campo o a la ciudad:



7. Completa la ficha sobre tu pueblo o ciudad:

VIVO EN:

☐ Un pueblo

☐ Una ciudad

Se llama:

LAS CALLES SON:

☐ Anchas

☐ Largas

☐ Estrechas

☐ Cortas

LAS CASAS SON:

☐ Altas

☐ Antiguas

☐ Bajas

☐ Modernas

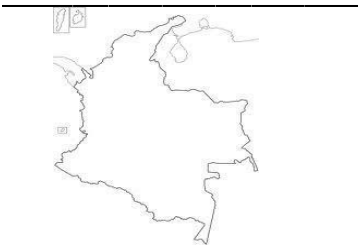
8. Completa el texto con las palabras del rectángulo:

biblioteca – ambulatorio – espacios – polideportivo – colegio

- Las localidades disponen de diferentes
públicos: colegios, teatros, parques, museos, etc.
- A la vamos a leer, a hacer los deberes y
podemos coger prestados libros.
- En el atienden a las personas enfermas.
- En el podemos practicar varios deportes.
- En el estudiamos, jugamos y hacemos
nuevos amigos.

9. Completa

Mi país es:



Mi departamento es:




La comuna 16 está ubicada
en el Municipio de
Medellín en el
departamento
de Antioquia.

La comuna 16 limita con un
corregimiento. ¿Cuáles?

División administrativa

Medellín está formado por
____comunas.

Belén pertenece a la comuna
_____, además por _____

	<i>Institución Educativa Horacio Muñoz Suescún</i> Resolución de aprobación 16314 del 27 de noviembre de 2002 Modificada parcialmente por la resolución número 202050071667 de 23 de noviembre de 2020	GAC:10 V:01
	Plan de Apoyo Anual Sociales	18/06/2013


Nombra cuatro barrios del municipio de Medellín.

10. Sigue las instrucciones y completa el recuadro:

Dibuja una bicicleta en el centro de este recuadro. A la derecha, dibuja un niño. A la izquierda, una niña. Encima de ellos, pinta tres líneas naranjas. Debajo, dibuja cinco círculos verdes. Dibuja cruces amarillas dentro de los círculos verdes.


11. ¿Que transmiten estas imágenes?

①



① _____

②

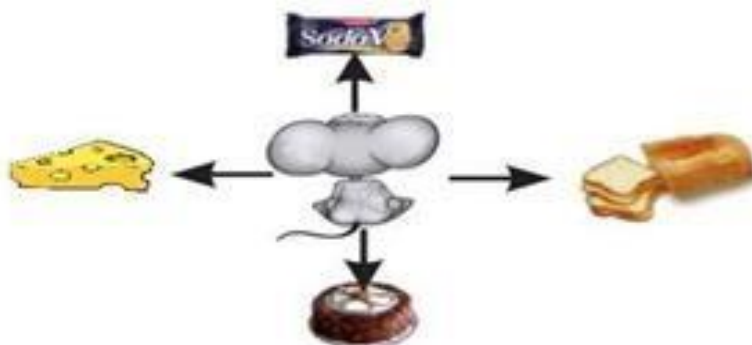


② _____



Plan de Apoyo Anual Sociales

12.El siguiente dibujo muestra un ratón que no sabe si comerse un queso o una galleta, un pan o un pastel.



13.Si decidiera comerse el queso, el ratón tendría que ir hacia:

- a. Izquierda
- b. Adelante
- c.Derecha
- d.Atrás

14.Escribe los puntos cardinales, según su ubicación:

