

	<i>Institución Educativa Benjamín Herrera</i> Aprobación de estudios Res.16309 del 27 de Nov. de 2002	REG-DC-SEA-06
	PLAN DE APOYO DE BÁSICA Y MEDIA	Versión 1
	Revisó: Líder de proceso	Aprobó: Rector

ÁREA:	Ciencias Sociales	DOCENTE:	Cindy Yohana Castaño Gonzalez
GRADO:	2°	ESTUDIANTE:	
PERIODO:	1°		
FECHA DE ENTREGA:	Mayo 29 de 2026	VALOR DEL TRABAJO:	40%
FECHA DE SUSTENTACIÓN:	Junio 01 al 02 de 2026	VALOR DE LA SUSTENTACIÓN:	60%

CONTENIDO	
ESTÁNDAR	<ul style="list-style-type: none"> Reconozco diversos aspectos míos y de las organizaciones sociales a las que pertenezco, así como los cambios que han ocurrido a través del tiempo. Identifico y describo características y funciones básicas de organizaciones sociales y políticas de mi entorno (familia, colegio, barrio, vereda, corregimiento, resguardo, territorios afrocolombianos, municipios...). Hago preguntas sobre mí y sobre las organizaciones sociales a las que pertenezco (familia, curso, colegio, barrio...).
COMPONENTES	Relaciones espaciales y ambientales Relaciones ético políticas Relaciones con la historia y las culturas
COMPETENCIA	Interpretación y análisis en perspectiva Pensamiento reflexivo y sistémico Pensamiento social
DERECHO BÁSICO DE APRENDIZAJE	<p>6. Compara las características de las viviendas de su municipio, vereda o lugar donde vive con las de otros lugares.</p> <p>7. Reconoce la organización territorial en su municipio, desde: comunas, corregimientos, veredas, localidades y territorios indígenas.</p>
INDICADOR DE DESEMPEÑO	<p>7.1 Identifica el croquis de su municipio y lo diferencia entre los demás municipios del departamento.</p> <p>7.4 Diferencia la organización de grupos pequeños como la familia, salón de clase, colegio con las de los grupos más grandes como resguardo, territorios afrocolombianos y municipios.</p> <p>6.1 Reconoce características de las viviendas rurales y urbanas a partir de los materiales utilizados para su construcción.</p> <p>6.3 Identifica los cambios que se dan en las viviendas con el paso del tiempo.</p> <p>7.2 Ubica las comunas, corregimientos, localidades y/o territorios indígenas en los que está organizado el territorio de su municipio, teniendo en cuenta los puntos cardinales.</p> <p>7.3 Nombra topónimos (nombres propios que adoptan los lugares geográficos) en su municipio y diferencia su ubicación en el medio urbano o rural.</p> <p>6.2 Describe y diferencia características de las viviendas de los grupos étnicos, a partir de la</p>



PLAN DE APOYO DE BÁSICA Y MEDIA

Versión 1

Revisó: Líder de proceso

Aprobó: Rector

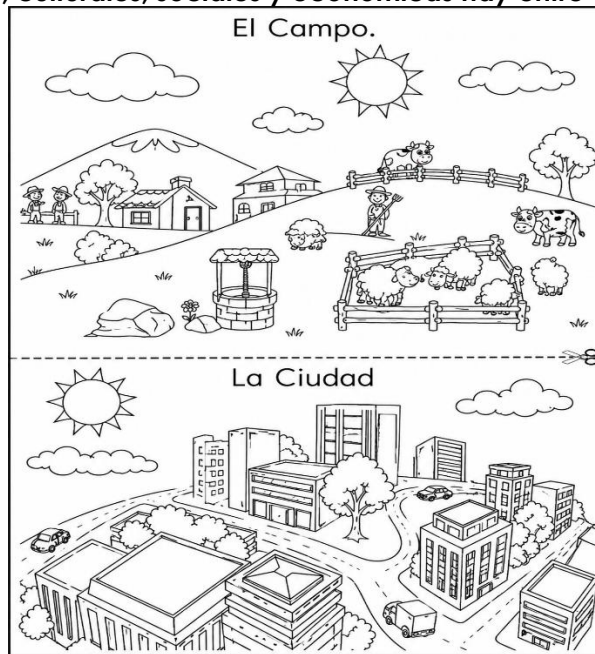
Fecha de Aprobación del Formato:
Enero de 2019

lectura de imágenes.

6.4 Describe las ventajas y desventajas que representa tener vivienda en zona urbana o rural.


SITUACIÓN PROBLEMA

¿Qué diferencias físicas, culturales, sociales y económicas hay entre el paisaje rural y urbano?

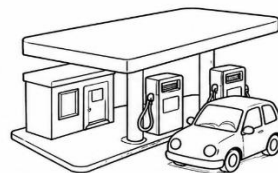


ACTIVIDADES O ACCIÓN SITUADA

1. ¿Las conoces? Escribe el nombre de las siguientes Instituciones:















Institución Educativa Benjamín Herrera

Aprobación de estudios Res.16309 del 27 de Nov. de 2002

REG-DC-SEA-06

PLAN DE APOYO DE BÁSICA Y MEDIA

Versión 1

Revisó: Líder de proceso

Aprobó: Rector

Fecha de Aprobación del Formato:
Enero de 2019

Las instituciones de la comunidad son aquellas que brindan servicios a las personas que viven en ella. Las instituciones de una comunidad pueden ser: el Cuerpo de Bomberos, la Comisaría, la Iglesia, el Centro de Salud, el Colegio, etc. Cada una de estas instituciones brinda servicios especiales a los miembros de una comunidad, como: educación, salud, seguridad, deportes, esparcimiento, ayuda económica, entre otros.

2. Al lado de cada una de las siguientes definiciones, dibuja o escribe la institución que le corresponde.

Es una institución que presta servicios voluntarios en caso de siniestros, accidentes, situaciones de emergencia y otras ayudas humanitarias. Su principal misión es salvar la vida y los bienes de los miembros de la comunidad.	
Es la encargada de velar por el orden y seguridad de la comunidad.	
Brinda asistencia espiritual y humanitaria a los miembros de la comunidad.	
Se encarga de velar por el bienestar de la salud de las personas que conforman la comunidad mediante campañas de vacunación e información para la prevención de las enfermedades.	
Cumple una función formativa, brinda las capacidades necesarias a los niños para su formación integral.	

3. Escribe en el cuadro 4 características que tenga el paisaje rural y 4 del paisaje urbano

Paisaje Rural	Paisaje Urbano



PLAN DE APOYO DE BÁSICA Y MEDIA

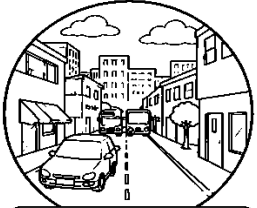

Versión 1

Revisó: Líder de proceso


Aprobó: Rector

Fecha de Aprobación del Formato:
Enero de 2019

4. Observa muy bien cada imagen y escribe en el cuadro si se trata de la ciudad o el campo



5. Observa muy bien cada imagen y escribe debajo si es una actividad que se realiza en el campo, en la ciudad o en el campo y la ciudad.



6. Busca imágenes de viviendas rurales y urbanas y escribe qué diferencias o similitudes hay entre ambas



PLAN DE APOYO DE BÁSICA Y MEDIA

Versión 1


Revisó: Líder de proceso

Aprobó: Rector

Fecha de Aprobación del Formato:
Enero de 2019

--	--

7. Teniendo en cuenta la siguiente imagen ubica los 4 puntos cardinales: Norte, sur, oriente y occidente



8. Sigue las indicaciones para que el conejo pueda llegar a la zanahoria, recuerda debes tener en cuenta los puntos cardinales; ayúdate de la imagen de arriba.

Sigue las indicaciones para que el conejo llegue a su zanahoria:

- 2 al Norte
- 1 al Oeste
- 3 al Norte
- 3 al Este
- 2 al Sur
- 2 al Este
- 4 al Norte







PLAN DE APOYO DE BÁSICA Y MEDIA

Versión 1

Revisó: Líder de proceso

Aprobó: Rector

Fecha de Aprobación del Formato: Enero de 2019

9. Completa la información teniendo en cuenta los puntos cardinales


a. Camila trata de orientarse según la posición del Sol. Si son las 6 de la mañana, es decir, es el amanecer señala la ubicación de:

⇒ El pueblo está hacia el:

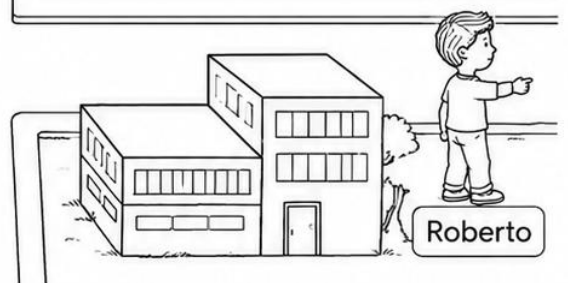


⇒ El bosque está hacia el:

⇒ La piscina está hacia el:


⇒ El Sol está hacia el:



b. De acuerdo a la imagen los niños miran a diferentes direcciones. ¿Cuáles son?



- Marcelo está mirando hacia el _____
- Claudia está mirando hacia el _____
- Roberto está mirando hacia el _____
- Pamela está mirando hacia el _____
- Pamela está mirando hacia el _____

 <p>INSTITUCIÓN EDUCATIVA BENJAMÍN HERRERA</p> <p>Museum et feminam laet illum</p>	<p><i>Institución Educativa Benjamín Herrera</i></p> <p>Aprobación de estudios Res.16309 del 27 de Nov. de 2002</p>	<p>REG-DC-SEA-06</p>
<p>PLAN DE APOYO DE BÁSICA Y MEDIA</p>	<p>Versión 1</p>	
<p>Revisó: Líder de proceso</p>	<p>Aprobó: Rector</p> <p>Fecha de Aprobación del Formato: Enero de 2019</p>	