	INSTITUCIÓN EDUCATIVA JUVENIL NUEVO FUTURO GESTIÓN ACADÉMICA Y FORMATIVA	VERSIÓN 1
		GAF-FO 012
		FECHA: 20 - 02 - 2012
FORMATO: PLAN DE APOYO		PÁGINAS: 1

ASIGNATURA / DIMENSIÓN:	SOCIALES	DOCENTES: Cristina Benítez - Sandra Duque
PERÍODO:	3	FECHA:
NOMBRES Y APELLIDOS:	N°:	
GRUPO:	JUICIO VALORATIVO:	




1. LA IMAGEN QUE OBSERVASTE ANTERIORMENTE PERTENECE A :

- A. La Zona rural
- B. La Zona urbana
- C. La Zona comunitaria
- D. La Zona campestre



Explica tu respuesta: _____

2. ESTA IMAGEN REPRESENTA LA ZONA RURAL PORQUE:



- A. Tiene gran cantidad de casas
- B. Posee un gran espacio de zona verde, utilizada para la agricultura y los animales
- C. Se observan varios arboles
- D. Habitan muchas personas en el lugar

3. EL ORDEN DE LOS MEDIOS DE TRANSPORTE, SEGÚN SU CLASE, TENIENDO EN CUENTA LAS IMÁGENES ES:



1: _____

2: _____

3: _____

4. ¿QUÉ SE DEBE HACER, PARA QUE LOS MEDIOS DE TRANSPORTE NO CONTAMINEN EL MEDIO AMBIENTE Y DETERIOREN NUESTRO PLANETA?

5. EL PAISAJE GEOGRAFICO SE DIVIDE EN:

_____ y _____