


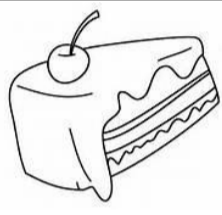

	INSTITUCIÓN EDUCATIVA JUVENIL NUEVO FUTURO GESTIÓN ACADÉMICA Y FORMATIVA	VERSIÓN 1
		GAF-FO 012
		FECHA: 20 - 02 - 2012
FORMATO: PLAN DE APOYO		PÁGINAS: 2

ÁREA / DIMENSIÓN: MATEMÁTICAS	DOCENTES: Sandra Duque, Cristina Benítez
PERÍODO: 3	FECHA: ____ -2017
NOMBRES Y APELLIDOS:	N°:
GRUPO: 2° _____	JUICIO VALORATIVO:

SEPTIEMBRE MES DEL AMOR Y LA AMISTAD.

Durante el mes de amor y amistad a la mayoría de las personas les gusta regalar dulces. Estos fueron los preferidos:

Chocolates	Gomitas	Colombinas	Tortas	Confitos
				
\$15.500	\$21.750	\$13.300	\$26.460	\$11.820

- El dulce favorito de Sofía son las colombinas. ¿Cuánto cuestan? Escribe la respuesta en letras _____
- El hermano de Sofía prefiere las tortas. ¿Cuánto cuestan?
Escribe la respuesta en
letras _____
- A la madre de Sofía le encantan las gomitas. ¿Cuánto cuestan?
Escribe la respuesta en
letras _____

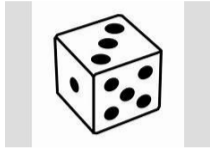
REUELVE. No olvides realizar allí mismo la operación matemática.

- Si en una caja hay 7 chocolates, ¿cuántos chocolates hay en 3 cajas?

- En un frasco hay 5 gomitas, ¿cuántas gomitas hay en 4 frascos?

6. Sofía, su hermano y su mamá se comen de a 7 confites cada uno. ¿Cuánto se comen entre los 3? _____

8. ¿Cuál es el nombre del sólido geométrico al que se parece este objeto?



9. ¿Cuál es el nombre del sólido geométrico al que se parece este objeto?



10. ¿Cuál es el nombre del sólido geométrico al que se parece este objeto?



11. Completa la secuencia y elige la respuesta que tiene las cantidades correctas:

4	8		16	20		28		36	40
---	---	--	----	----	--	----	--	----	----

- a. 10 – 12 – 14.
- b. 4 – 8 – 12.
- c. 12 – 24 – 32.
- d. 34 – 36 – 38.