

ESTRATEGIAS DE APOYO

COMPLEMENTARIAS		PLAN DE MEJORAMIENTO		PROMOCIÓN ANTICIPADA	
-----------------	--	----------------------	--	----------------------	--

DOCENTE CLAUDIA ZULETA

ÁREA C.SOCIALES **PERÍODO** 1

GRADO 2°1

Estimado estudiante de Fe y Alegría San José, la actividad programada en este formato deberá ser realizada pensando en tu formación personal y en el desarrollo de tus competencias. Presentar el taller con los puntos aquí señalados es parte obligatoria del proceso, que consiste en la presentación de una evaluación escrita equivalente al 100% de la nota de recuperación. La evaluación será programada desde Coordinación.

ACTIVIDAD Taller 30% Evaluación escrita 70 %

Fecha de entrega Abril 23 - 2026 Pendiente programación de Coordinación

TALLER









- Leer bien cada punto antes de resolver.
- Trabajar con orden y letra clara.
- Resolver todo el taller en casa.
- Entregar completo y a tiempo.


PAISAJE NATURAL Y PAISAJE CULTURAL

1. Lee las oraciones y escoje si la afirmación es verdadera o falsa.


- El paisaje natural ha sido modificado por el ser Humano
- El Paisaje rural y urbano pertenecen al paisaje cultural
- Las selvas hacen parte del paisaje natural
- En el campo se observan muchos edificios y avenidas

2. Ubica en el lugar correspondiente los paisajes naturales y culturales

Paisajes Naturales		Paisajes culturales	
			
			



1 Escribe los puntos cardinales donde corresponde:



Completa la oración.

El sol sale por el _____ y se oculta por el _____.

Completa con las ubicaciones de cada lugar.

- Son las 9 de la mañana.



- 1.- La playa está al _____.
- 2.- El bosque se encuentra en el _____.
- 3.- Si quiero ir a la granja debo ir por el _____.
- 4.- Para ir a la ciudad debo ir al _____.

LA DEMOCRACIA

Busque en la sopa de letra, las palabras relacionadas con la democracia.

A	B	R	C	A	N	E	E	C	E	R	E	P
P	R	A	A	D	L	N	E	A	M	I	R	S
R	B	D	E	R	E	C	H	O	B	M	J	E
E	A	D	E	M	O	C	R	A	C	I	A	L
S	H	M	C	U	C	C	O	D	A	S	E	E
I	G	A	O	I	C	E	D	I	E	M	A	C
D	A	O	G	H	S	B	Q	M	E	I	O	C
E	G	O	B	E	R	N	A	D	O	R	O	I
N	E	O	N	I	N	G	L	V	C	I	E	O
T	G	C	L	R	E	A	D	F	O	M	N	N
E	E	L	O	T	C	R	O	A	C	T	E	O
A	A	I	E	L	N	E	N	A	D	A	O	N
U	V	E	A	D	A	A	O	O	S	R	E	O



Palabras a encontrar:

GOBIERNO
VOTO
ELECCION

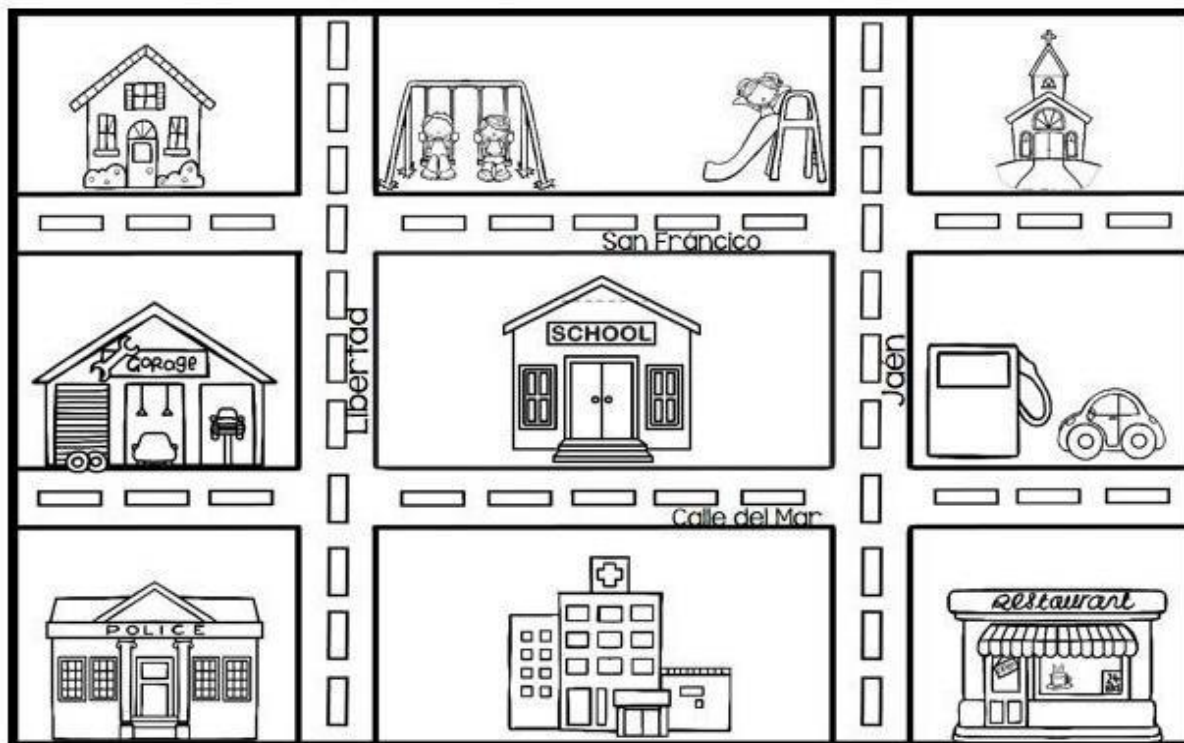
GOBERNADOR
DEMOCRACIA
PRESIDENTE

DERECHO
ALCALDE

Coloree el dibujo de la democracia



Observa, piensa y responde.



Responde

Yo vivo al lado de _____

El colegio está en la calle _____


A la izquierda del hospital está _____

El colegio esta en la esquina de las calles _____ y _____

El camino más directo de mi casa al restaurante es por las calles _____ y _____

Tema: Comunidad escolar

1.- Marca las personas que son parte de la comunidad escolar.



2.- Une según corresponda:

Lugar donde juego.

El salón

Ambiente donde me lavo las manos.

El patio

Lugar donde aprendo.

El baño

3.- ¿Cuál es su función? Une

Director

Organiza los documentos.

Profesor o profesora

Dirige el colegio y su adecuado funcionamiento.

Secretaria

Enseña y orienta a los estudiantes.

RESPONDE:

¿Qué es una tradición? _____

-Dibuja una tradición de tu familia o de tu barrio.

