
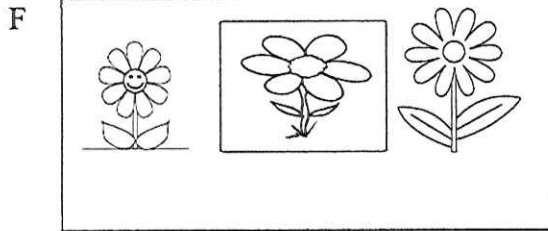






NOMBRE DEL ESTUDIANTE _____ GRUPO _____ GRADO _____

1. Dibuja 5 conjuntos

2. Dados los conjuntos:



Responde \neq o \in



3. Dibuja un conjunto con 8 elementos.

4. realiza un dibujo donde se observen las clases de líneas

5. realiza un dibujo utilizando las figuras geométricas.