



Docente: _____
Área o asignatura: MATEMÁTICAS Y GEOMETRÍA

NOMBRE DEL ESTUDIANTE _____ GRUPO _____ GRADO _____

Las actividades que a continuación se presentan las debes realizar en hojas de block y presentarlas cumplidamente en las fechas asignadas. Estas te sirven de apoyo para superar algunas dificultades presentadas durante el periodo.

1. Escribe las siguientes fracciones

Dos quintos


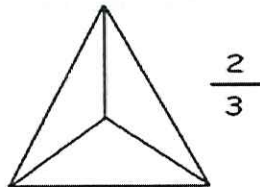
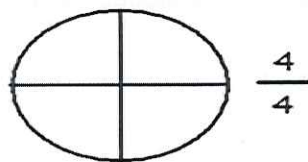

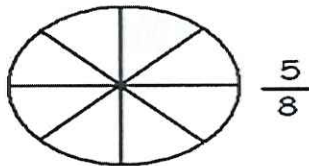

Tres octavos

Ocho cuartos

Trece medios

Seis sextos

2. Colorea para representar las fracciones siguientes:



3. Escribe la fracción que equivale a cada número decimal

a) 1.1

b) 0.11

c) 0.011

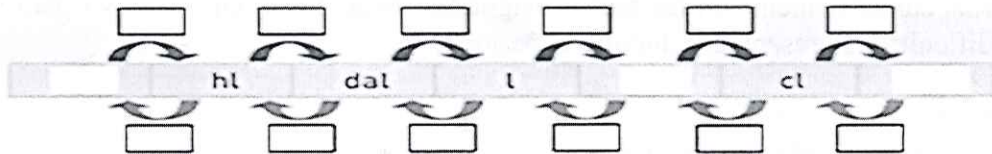
d) 10.01

e) 1.001

f) 0.101



4. Completa el siguiente cuadro, indicando las unidades que faltan y qué se hace para pasar de una unidad de medida a otra



5. Completa la siguiente tabla

kl	hl	dal	l	dl	cl	ml
3,24	32,4	324	3.240	32.400	324.000	3.240.000
		1.500				
						60
94,102						
			4.000			

6. En un zoológico hay 246 aves de diferente tipo, si cuento cada una de sus patas. ¿Cuántas patas habré contado?