

**1|.Mi tía me regalo 78 bombones y yo compartí 34, ¿cuantos bombones me quedaron?**

- A. 20
- B. 44
- C. 24

**2. María tenía 15 dulces y regalo 12. ¿Cuantos dulces le quedaron a María?**

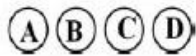
- A. 3
- B. 2
- C. 4

**3 . Observa las imágenes y rellena uno de los círculos para seleccionar la**





**letra que tiene la respuesta correcta:**

Estos elementos no sirven para:




- a)** Medir cosas.
- b)** Para caminar.
- c)** Para hacer cosas.
- d)** Para nada.



**4. Observa las imágenes y completa:**

El largo del lápiz mide \_\_\_\_\_ cm.



El alto del pocillo mide \_\_\_\_\_ cm

5) DESCUBRE EL NUMERO QUE FALTA

Nombre: \_\_\_\_\_ Fecha: \_\_\_\_\_

## NUMERACIÓN

Encuentra los números ocultos detrás de cada dibujo y escríbelos al lado.

1	2		4	5		7	8		10
	12	13	14	15	16	17		19	20
21		23	24	25	26	27	28	29	30
31	32	33		35	36	37	38	39	
	42	43	44	45	46		48	49	50
51	52		54		56	57	58	59	60
61	62	63	64	65		67	68		70
71		73	74	75	76		78	79	80
81	82	83	84		86	87	88	89	
91	92	93		95	96	97		99	100

